

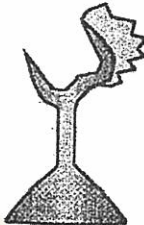
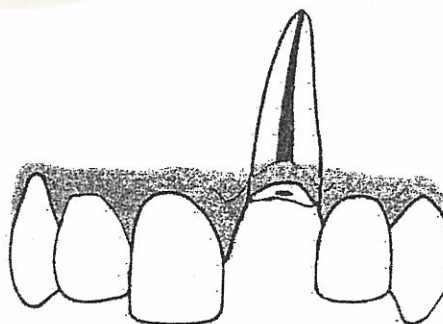


1. 請問當進行後牙區固定義齒(包括植牙)的贖復時，患者本身的 overjet 與 overbite 會如何影響你的治療計畫，在咬合器的使用上有不同的考量嗎? (15%)
2. 請就你的理解，比較活動義齒與固定義齒在咬合的設計上有何異同? (10%)
3. 請問下列三項鑄造失誤發生的原因為何? (15%)

		
A. Multiple random nodules	B. Nodules on underside only	C. Fins

4. 請敘述 ovate pontic 的操作過程 (10%)
5. 請說明製作 custom incisal guide table(custom anterior guide table)的目的、時機、與製作方法。(10%)
6. 請說明在製作牙冠牙橋時，從 tooth preparation 到 prosthesis cementation 的整體過程中有哪些步驟會危及支台齒的牙髓活性，並提出解決或避免傷害造成的方法。(10%)
7. 如下圖：此為患者王小姐張口後所看到的前牙情況，已知# 21 牙冠斷裂，斷裂面與唇側及舌側的牙齦高度齊平，牙齦高度比#11 略高 (牙齦萎縮)，已知#11 牙冠長度為 11mm，請針對此情形闡述各種可能的治療選項 (treatment option) 與該治療選項的理由與成功的必要條件。(14%)



8. 請說明對於沾染口水與血液的各種 impression material 在灌製石膏前的感染管控處理步驟。(10%)
9. 解釋名詞：(a) metamorphism, (b) osseointegration。(6%)

試題隨卷繳回